

Leer la Hora en Relojes Analógicos (C)

Nombre: _____

Fecha: _____

Lea cada hora y escríbala en el espacio debajo del reloj.


1.



Medianoche

Mediodía


2.



Medianoche

Mediodía


3.



Medianoche

Mediodía

4.



Medianoche

Mediodía


5.



Medianoche

Mediodía


6.



Medianoche

Mediodía


7.



Mediodía

Medianoche


8.



Mediodía

Medianoche


9.



Mediodía

Medianoche


10.



Mediodía

Medianoche


11.



Mediodía

Medianoche

12.



Mediodía

Medianoche

Leer la Hora en Relojes Analógicos (C) Respuestas

Nombre: _____

Fecha: _____

Lea cada hora y escríbala en el espacio debajo del reloj.

