

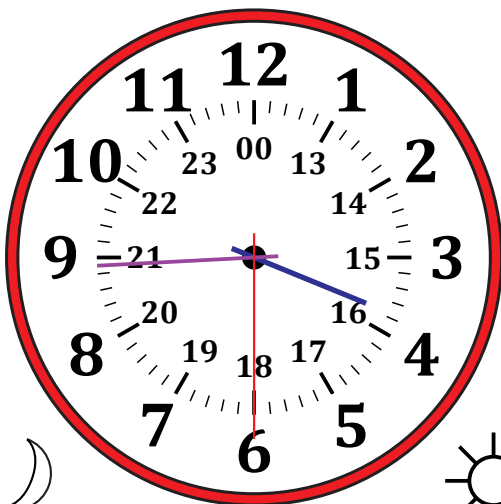
# Leer la Hora en Relojes Analógicos (A)

Nombre: \_\_\_\_\_


Fecha: \_\_\_\_\_

Lea cada hora y escríbala en el espacio debajo del reloj.

1.



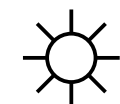
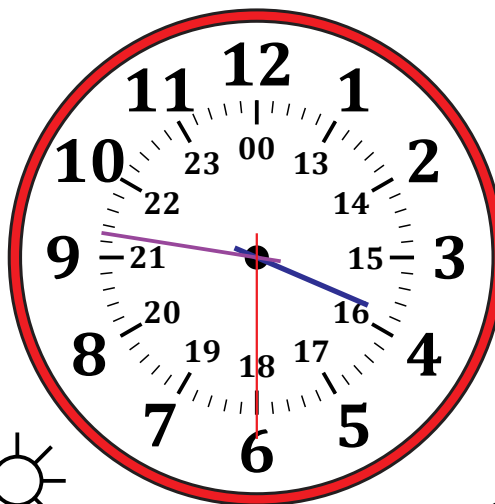
Medianoche



Mediodía

\_\_\_\_\_

2.





Mediodía



Medianoche

\_\_\_\_\_

3.




Mediodía



Medianoche

\_\_\_\_\_

4.



Medianoche



Mediodía

\_\_\_\_\_


# Leer la Hora en Relojes Analógicos (A) Respuestas

Nombre: \_\_\_\_\_

Fecha: \_\_\_\_\_

Lea cada hora y escríbala en el espacio debajo del reloj.

1.

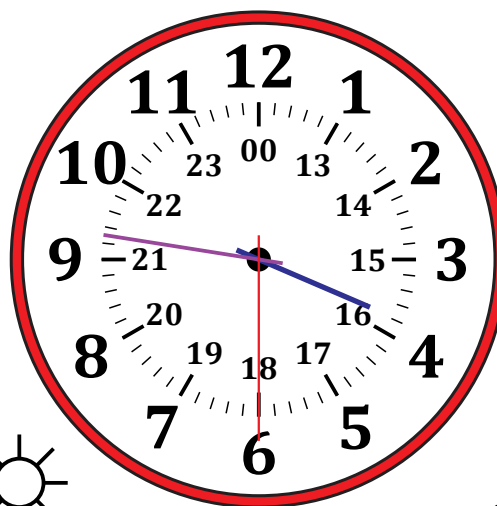


  
Medianoche

03:44:30

  
Mediodía

2.




  
Mediodía

15:46:30

  
Medianoche

3.




  
Mediodía

22:26:00

  
Medianoche

4.



  
Medianoche

10:42:00

  
Mediodía