


Dibujar la Hora en Relojes Analógicos (H)

Nombre: _____

Fecha: _____

Dibuje cada hora en el reloj que tiene encima.

1.




Mediodía

16:31:11



Medianoche

2.




Medianoche

04:49:45



Mediodía

3.




Mediodía

19:19:22



Medianoche

4.



Medianoche

09:54:33



Mediodía


Dibujar la Hora en Relojes Analógicos (H) Respuestas

Nombre: _____

Fecha: _____

Dibuje cada hora en el reloj que tiene encima.

1.




Mediodía

16:31:11



Medianoche

2.




Medianoche

04:49:45



Mediodía

3.



Mediodía

19:19:22



Medianoche

4.



Medianoche

09:54:33



Mediodía