


# Dibujar la Hora en Relojes Analógicos (G)

Nombre: \_\_\_\_\_

Fecha: \_\_\_\_\_

Dibuje cada hora en el reloj que tiene encima.

1.




  
Medianoche

8:46:00 AM

  
Mediodía

2.




  
Mediodía

2:52:30 PM

  
Medianoche

3.




  
Mediodía

7:02:15 PM

  
Medianoche

4.



  
Medianoche

1:56:45 AM

  
Mediodía


# Dibujar la Hora en Relojes Analógicos (G) Respuestas

Nombre: \_\_\_\_\_

Fecha: \_\_\_\_\_

Dibuje cada hora en el reloj que tiene encima.

1.



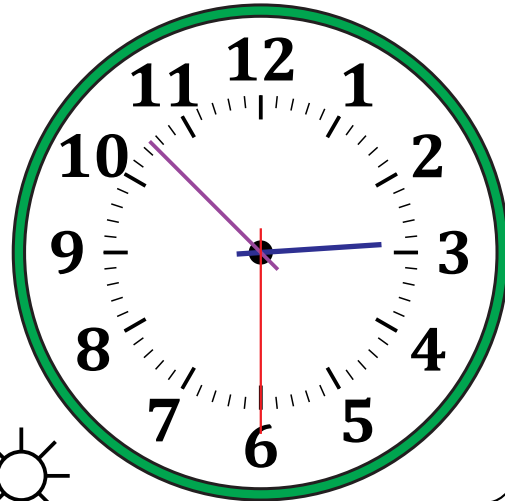
Medianoche

8:46:00 AM



Mediodía

2.

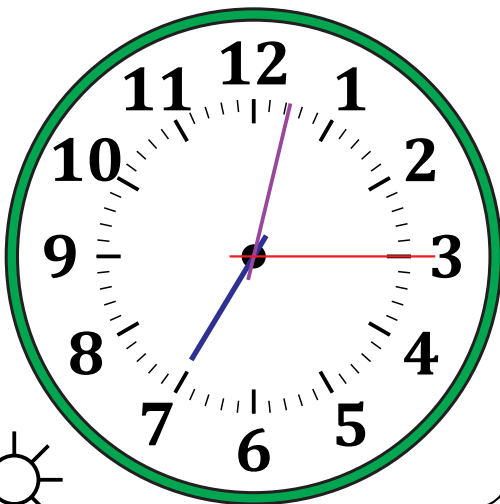


Mediodía

2:52:30 PM

Medianoche

3.




Mediodía

7:02:15 PM



Medianoche

4.



Medianoche

1:56:45 AM



Mediodía