


Dibujar la Hora en Relojes Analógicos (J)

Nombre: _____

Fecha: _____

Dibuje cada hora en el reloj que tiene encima.

1.





Medianoche

12:03:00 AM


Mediodía

2.





Medianoche

11:59:25 AM


Mediodía

3.





Mediodía

9:51:45 PM


Medianoche

4.




Mediodía

2:16:40 PM


Medianoche


Dibujar la Hora en Relojes Analógicos (J) Respuestas

Nombre: _____

Fecha: _____

Dibuje cada hora en el reloj que tiene encima.

1.




Medianoche

12:03:00 AM




Mediodía

2.



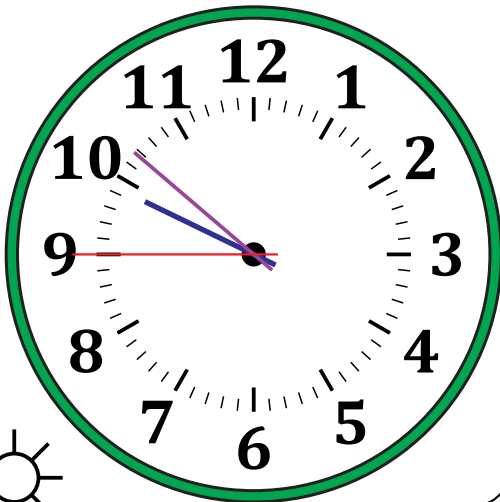
Medianoche

11:59:25 AM



Mediodía

3.



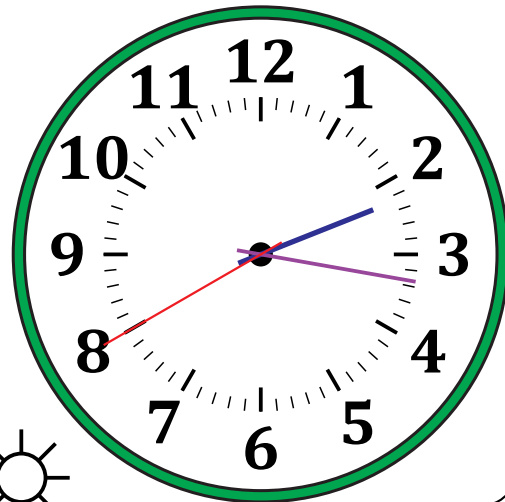
Mediodía

9:51:45 PM



Medianoche

4.



Mediodía

2:16:40 PM



Medianoche