

Contar Corazones de Dulce (9)

Nombre: _____


Fecha: _____

Cuente cuántos corazones de dulce hay en cada grupo.


1. Hay _____ corazones verdes en el grupo siguiente.




2. Hay _____ corazones azules en el grupo siguiente.



3. Hay _____ corazones rosa en el grupo siguiente.



4. Hay _____ corazones naranja en el grupo siguiente.



Contar Corazones de Dulce (9) Respuestas

Nombre: _____


Fecha: _____

Cuente cuántos corazones de dulce hay en cada grupo.


1. Hay 18 corazones verdes en el grupo siguiente.



2. Hay 49 corazones azules en el grupo siguiente.



3. Hay 20 corazones rosa en el grupo siguiente.



4. Hay 20 corazones naranja en el grupo siguiente.

