


## Contar Corazones de Dulce (9)

Nombre: \_\_\_\_\_

Fecha: \_\_\_\_\_

Cuente cuántos corazones de dulce hay en cada grupo.

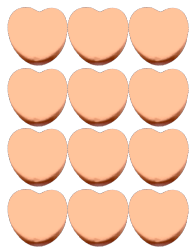
1. Hay \_\_\_\_\_ corazones rosa en el grupo siguiente.



2. Hay \_\_\_\_\_ corazones azules en el grupo siguiente.



3. Hay \_\_\_\_\_ corazones naranja en el grupo siguiente.



4. Hay \_\_\_\_\_ corazones verdes en el grupo siguiente.




## Contar Corazones de Dulce (9) Respuestas

Nombre: \_\_\_\_\_

Fecha: \_\_\_\_\_

Cuente cuántos corazones de dulce hay en cada grupo.

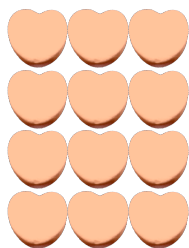
1. Hay 25 corazones rosa en el grupo siguiente.



2. Hay 6 corazones azules en el grupo siguiente.



3. Hay 12 corazones naranja en el grupo siguiente.



4. Hay 8 corazones verdes en el grupo siguiente.

