



# CONTAR HUEVOS DE PASCUAS 10

Cuente la cantidad en cada conjunto de huevos de Pascuas.


1. Hay \_\_\_\_ huevos de Pascuas en el conjunto siguiente.



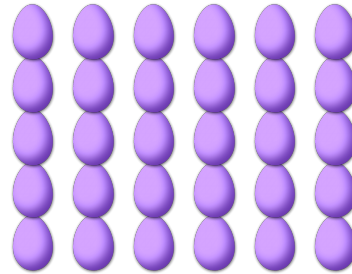
2. Hay \_\_\_\_ huevos de Pascuas en el conjunto siguiente.




3. Hay \_\_\_\_ huevos de Pascuas en el conjunto siguiente.




4. Hay \_\_\_\_ huevos de Pascuas en el conjunto siguiente.



5. Hay \_\_\_\_ huevos de Pascuas en el conjunto siguiente.




6. Hay \_\_\_\_ huevos de Pascuas en el conjunto siguiente.




# CONTAR HUEVOS DE PASCUAS O RESPUESTAS

Cuente la cantidad en cada conjunto de huevos de Pascuas.


1. Hay 24 huevos de Pascuas en el conjunto siguiente.




2. Hay 35 huevos de Pascuas en el conjunto siguiente.




3. Hay 18 huevos de Pascuas en el conjunto siguiente.



4. Hay 30 huevos de Pascuas en el conjunto siguiente.



5. Hay 28 huevos de Pascuas en el conjunto siguiente.



6. Hay 25 huevos de Pascuas en el conjunto siguiente.

