



# CONTAR HUEVOS DE PASCUAS (E)

Cuente la cantidad en cada conjunto de huevos de Pascuas.

1. Hay \_\_\_\_ huevos de Pascuas en el conjunto siguiente.



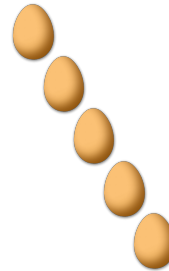
2. Hay \_\_\_\_ huevos de Pascuas en el conjunto siguiente.



3. Hay \_\_\_\_ huevos de Pascuas en el conjunto siguiente.



4. Hay \_\_\_\_ huevos de Pascuas en el conjunto siguiente.



5. Hay \_\_\_\_ huevos de Pascuas en el conjunto siguiente.




6. Hay \_\_\_\_ huevos de Pascuas en el conjunto siguiente.




# CONTAR HUEVOS DE PASCUAS (E) RESPUESTAS

Cuente la cantidad en cada conjunto de huevos de Pascuas.

1. Hay 6 huevos de Pascuas en el conjunto siguiente.



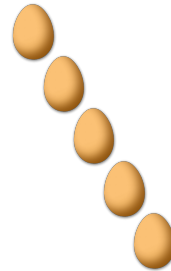
2. Hay 3 huevos de Pascuas en el conjunto siguiente.



3. Hay 2 huevos de Pascuas en el conjunto siguiente.



4. Hay 5 huevos de Pascuas en el conjunto siguiente.



5. Hay 4 huevos de Pascuas en el conjunto siguiente.



6. Hay 7 huevos de Pascuas en el conjunto siguiente.

