



CONTAR HUEVOS DE PASCUAS

Cuente la cantidad en cada conjunto de huevos de Pascuas.

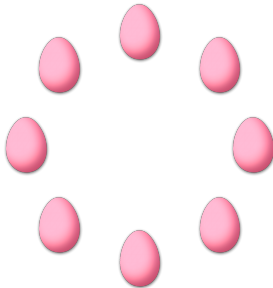
1. Hay ____ huevos de Pascuas en el conjunto siguiente.




2. Hay ____ huevos de Pascuas en el conjunto siguiente.




3. Hay ____ huevos de Pascuas en el conjunto siguiente.



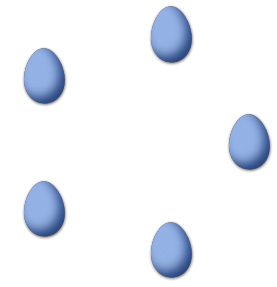
4. Hay ____ huevos de Pascuas en el conjunto siguiente.



5. Hay ____ huevos de Pascuas en el conjunto siguiente.




6. Hay ____ huevos de Pascuas en el conjunto siguiente.




CONTAR HUEVOS DE PASCUAS (C) RESPUESTAS

Cuente la cantidad en cada conjunto de huevos de Pascuas.

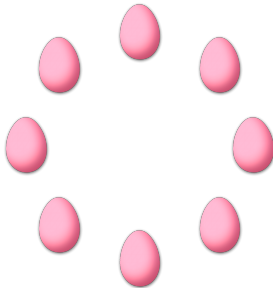
1. Hay 13 huevos de Pascuas en el conjunto siguiente.




2. Hay 6 huevos de Pascuas en el conjunto siguiente.




3. Hay 8 huevos de Pascuas en el conjunto siguiente.



4. Hay 9 huevos de Pascuas en el conjunto siguiente.



5. Hay 14 huevos de Pascuas en el conjunto siguiente.



6. Hay 5 huevos de Pascuas en el conjunto siguiente.

