



# ¿QUÉ HAY EN EL REGALO? (F)

¿Qué número hay en cada regalo?

$11 + 16 =$  

$9 + 4 =$  

$16 + 25 =$  

$4 + 24 =$  

$1 + 7 =$  

$2 +$    $= 11$


$7 +$    $= 29$


$22 +$    $= 37$

$15 +$    $= 30$


$23 +$    $= 25$


$$    $+ 22 = 36$

$$    $+ 2 = 20$

$$    $+ 1 = 12$

$$    $+ 23 = 41$


$$    $+ 5 = 19$

$10 + 19 =$  

$2 + 25 =$  

$18 + 6 =$  

$16 + 12 =$  

$1 + 19 =$  

$23 +$    $= 35$


$19 +$    $= 34$


$15 +$    $= 33$

$18 +$    $= 27$


$7 +$    $= 8$

$$    $+ 7 = 9$

$$    $+ 16 = 26$


$$    $+ 10 = 12$


$$    $+ 2 = 11$

$$    $+ 8 = 24$

$14 + 6 =$  

$8 + 6 =$  

$22 + 16 =$  

$4 + 19 =$  

$2 + 22 =$  

$7 +$    $= 32$


$2 +$    $= 24$


$9 +$    $= 29$


$21 +$    $= 31$

$18 +$    $= 29$

$$    $+ 6 = 26$

$$    $+ 8 = 15$

$$    $+ 10 = 33$

$$    $+ 11 = 35$

$$    $+ 4 = 10$