




¿QUÉ HAY EN EL REGALO? (B)

¿Qué número hay en cada regalo?

$4 + 19 =$ 

$3 + 14 =$ 

$5 + 13 =$ 

$24 + 22 =$ 

$9 + 2 =$ 

$23 +$  $= 44$


$4 +$  $= 19$


$5 +$  $= 11$


$2 +$  $= 23$


$10 +$  $= 29$


$$  $+ 17 = 30$

$$  $+ 21 = 46$

$$  $+ 11 = 19$

$$  $+ 9 = 10$


$$  $+ 6 = 29$

$12 + 1 =$ 

$22 + 13 =$ 

$16 + 25 =$ 

$24 + 2 =$ 

$8 + 15 =$ 

$7 +$  $= 29$


$3 +$  $= 7$

$24 +$  $= 25$

$24 +$  $= 42$


$7 +$  $= 29$

$$  $+ 12 = 13$


$$  $+ 2 = 3$


$$  $+ 24 = 36$

$$  $+ 6 = 13$


$$  $+ 17 = 35$

$12 + 2 =$ 

$20 + 15 =$ 

$16 + 3 =$ 

$18 + 20 =$ 

$6 + 15 =$ 

$11 +$  $= 36$

$11 +$  $= 27$


$24 +$  $= 42$

$1 +$  $= 21$

$17 +$  $= 26$

$$  $+ 4 = 12$

$$  $+ 20 = 24$

$$  $+ 18 = 30$

$$  $+ 25 = 43$

$$  $+ 3 = 9$