


¿QUÉ HAY EN EL REGALO? (A)

¿Qué número hay en cada regalo?

$109 - 43 =$ 

$66 - 26 =$ 

$113 - 40 =$ 

$94 - 14 =$ 

$97 - 35 =$ 

$60 -$  $= 33$

$80 -$  $= 38$

$29 -$  $= 8$

$104 -$  $= 63$

$16 -$  $= 4$

$$  $- 4 = 4$

$$  $- 69 = 28$

$$  $- 39 = 74$

$$  $- 84 = 73$

$$  $- 74 = 82$

$119 - 33 =$ 

$47 - 24 =$ 

$154 - 85 =$ 

$95 - 32 =$ 

$114 - 52 =$ 

$54 -$  $= 37$


$177 -$  $= 91$

$18 -$  $= 14$

$87 -$  $= 3$

$74 -$  $= 10$

$$  $- 60 = 99$

$$  $- 99 = 86$

$$  $- 6 = 54$

$$  $- 45 = 25$

$$  $- 20 = 63$

$84 - 66 =$ 

$60 - 11 =$ 

$51 - 25 =$ 

$137 - 44 =$ 

$119 - 35 =$ 

$109 -$  $= 93$


$104 -$  $= 31$

$97 -$  $= 95$

$22 -$  $= 7$

$148 -$  $= 61$

$$  $- 30 = 50$

$$  $- 61 = 91$

$$  $- 40 = 92$

$$  $- 95 = 64$

$$  $- 81 = 99$