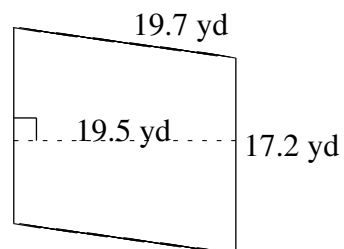
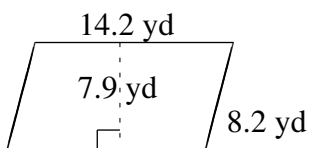
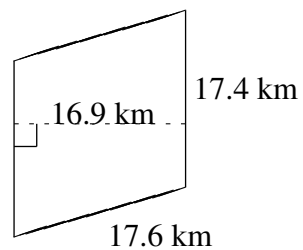
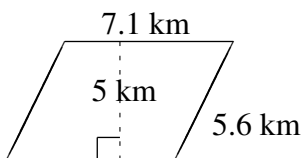
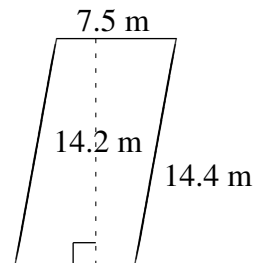
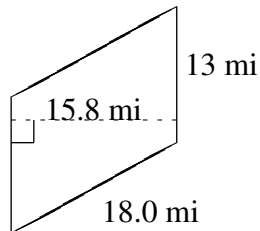


Área y Perímetro de Paralelogramos (D)

Halle el área y el perímetro de cada paralelogramo.



Área y Perímetro de Paralelogramos (D) Respuestas

Halle el área y el perímetro de cada paralelogramo.

