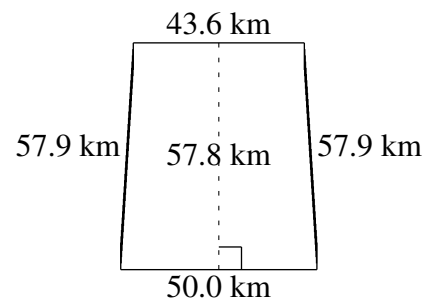
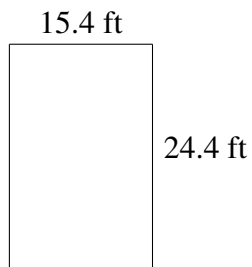
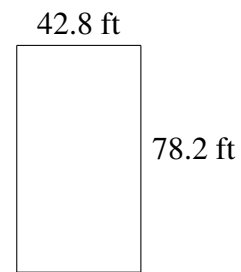
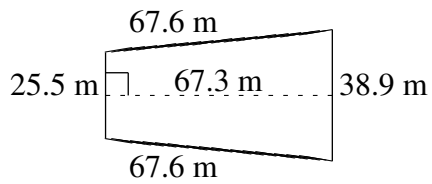
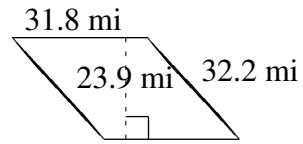
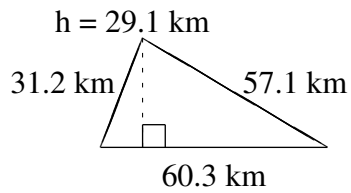


Área y Perímetro de Formas Varias (I)

Halle el área y el perímetro de cada figura.



Área y Perímetro de Formas Varias (I) Respuestas

Halle el área y el perímetro de cada figura.

