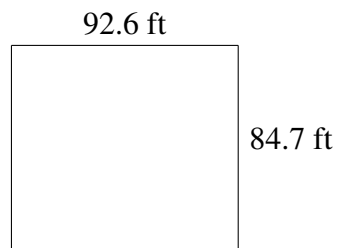
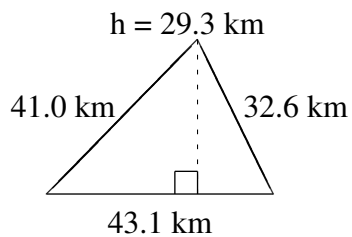
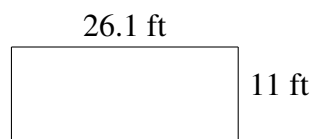
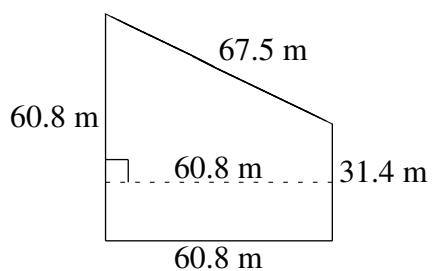
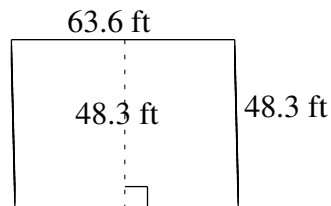
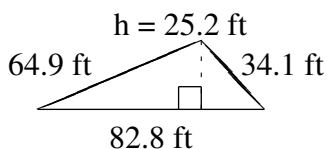


# Área y Perímetro de Formas Varias (F)

Halle el área y el perímetro de cada figura.



# Área y Perímetro de Formas Varias (F) Respuestas

Halle el área y el perímetro de cada figura.

