

CONTAR EN HALLOWEEN (9)


Nombre: _____

Fecha: _____

Puntuación: _____ /4

¡Si os atrevéis, contad la cantidad de objetos en cada grupo!

1. Hay fantasmas.



2. Hay cabezas de calabaza.



3. Hay brujas.



4. Hay murciélagos.



CONTAR EN HALLOWEEN (Q) RESPUESTAS


Nombre: _____

Fecha: _____

Puntuación: _____ /4

¡Si os atrevéis, contad la cantidad de objetos en cada grupo!


1. Hay fantasmas.



2. Hay cabezas de calabaza.



3. Hay brujas.



4. Hay murciélagos.

