

CONTAR EN HALLOWEEN (B)

Nombre: _____

Fecha: _____

Puntuación: _____ /4

¡Si os atrevéis, contad la cantidad de objetos en cada grupo!


1. Hay cabezas de calabaza.




2. Hay brujas.



3. Hay fantasmas.



4. Hay murciélagos.



CONTAR EN HALLOWEEN (B) RESPUESTAS


Nombre: _____ Fecha: _____ Puntuación: _____ /4

¡Si os atrevéis, contad la cantidad de objetos en cada grupo!


1. Hay cabezas de calabaza.



2. Hay brujas.



3. Hay fantasmas.



4. Hay murciélagos.

