

# CONTAR EN HALLOWEEN (A)

Nombre: \_\_\_\_\_

Fecha: \_\_\_\_\_

Puntuación: \_\_\_\_\_ /4

¡Si os atrevéis, contad la cantidad de objetos en cada grupo!


1. Hay  cabezas de calabaza.




2. Hay  brujas.



3. Hay  murciélagos.



4. Hay  fantasmas.



# CONTAR EN HALLOWEEN (A) RESPUESTAS

Nombre: \_\_\_\_\_ Fecha: \_\_\_\_\_ Puntuación: \_\_\_\_\_ /4

¡Si os atrevéis, contad la cantidad de objetos en cada grupo!


1. Hay  cabezas de calabaza.



2. Hay  brujas.



3. Hay  murciélagos.



4. Hay  fantasmas.

