

# CONTAR EN HALLOWEEN (D)


Nombre: \_\_\_\_\_

Fecha: \_\_\_\_\_

Puntuación: \_\_\_\_\_ /4

¡Si os atrevéis, contad la cantidad de objetos en cada grupo!

1. Hay  fantasmas.




2. Hay  cabezas de calabaza.



3. Hay  brujas.



4. Hay  murciélagos.




# CONTAR EN HALLOWEEN (D) RESPUESTAS

Nombre: \_\_\_\_\_ Fecha: \_\_\_\_\_ Puntuación: \_\_\_\_\_ /4

¡Si os atrevéis, contad la cantidad de objetos en cada grupo!

1. Hay  fantasmas.



2. Hay  cabezas de calabaza.



3. Hay  brujas.



4. Hay  murciélagos.

