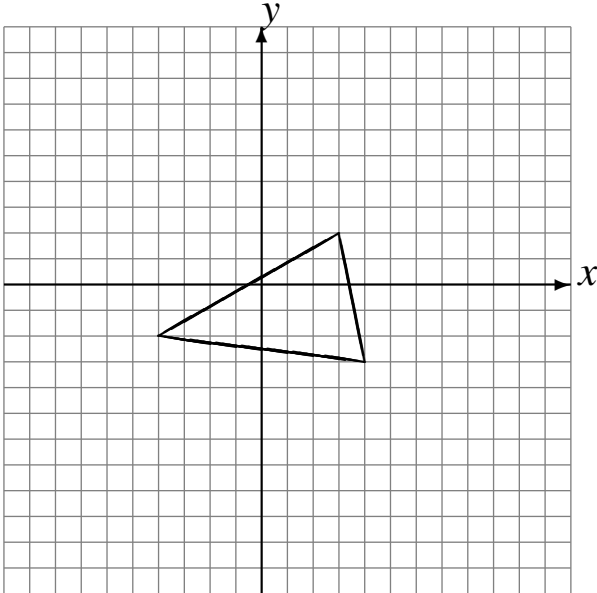


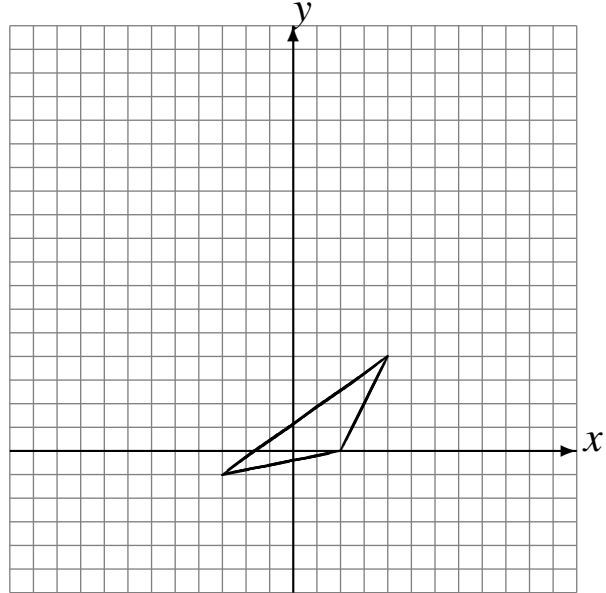
Rotaciones (H)

Dibuje cada figura rotada.

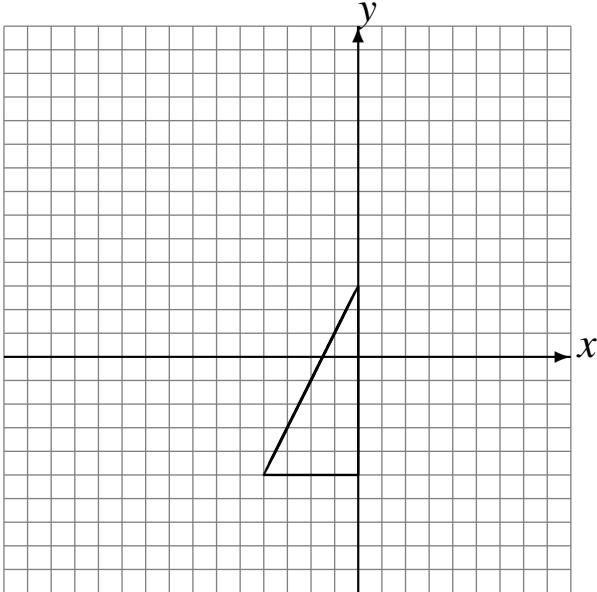
Rote 90° alrededor de $(-2, -4)$.
Rote -90° alrededor de $(-2, 1)$.
Rote 180° alrededor de $(1, -1)$.



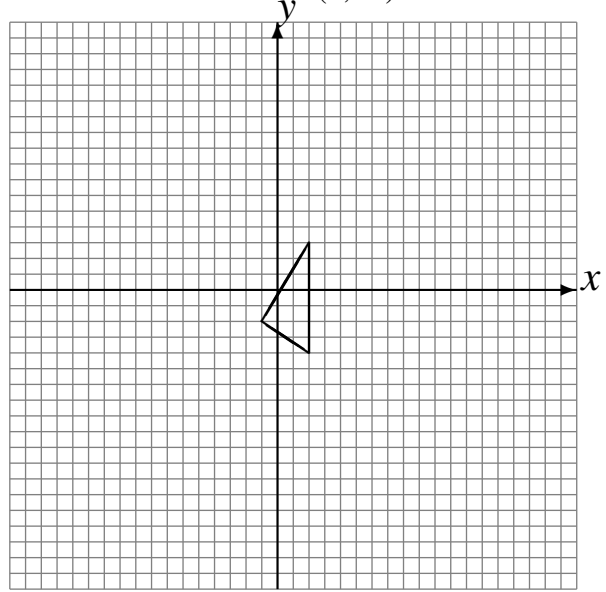
Rote 90° alrededor de $(4, 2)$.
Rote 90° alrededor de $(1, 4)$.
Rote 90° alrededor de $(-4, 3)$.



Rote 180° alrededor de $(0, -3)$.
Rote -90° alrededor de $(-3, 2)$.
Rote 180° alrededor de $(-3, 4)$.



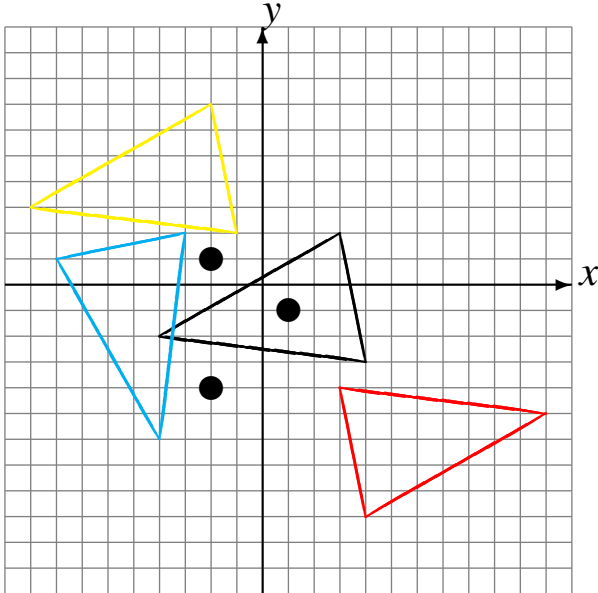
Rote 180° alrededor de $(-1, 3)$.
Rote 180° alrededor de $(1, -4)$.
Rote 180° alrededor de $(1, -1)$.



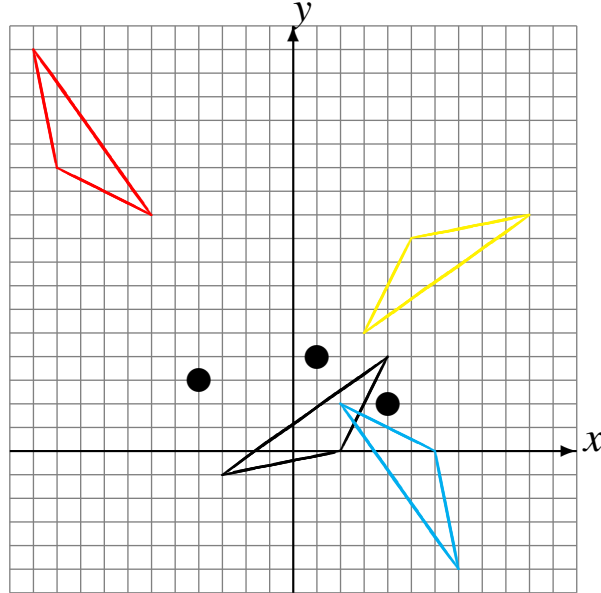
Rotaciones (H) Respuestas

Dibuje cada figura rotada.

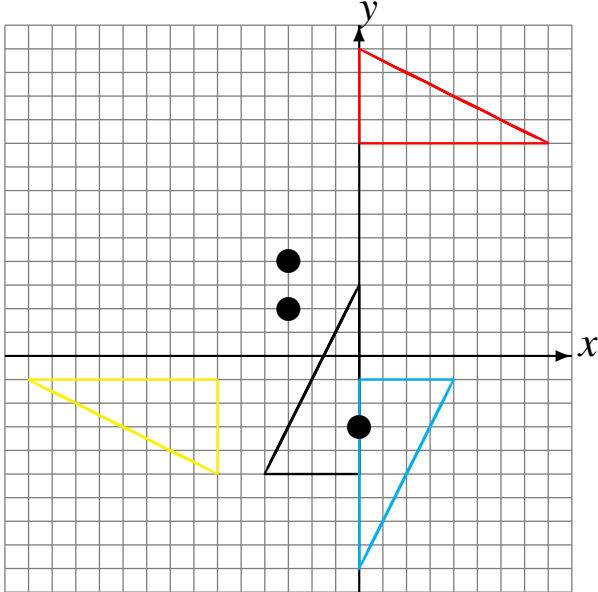
Rote 90° alrededor de $(-2, -4)$.
 Rote -90° alrededor de $(-2, 1)$.
 Rote 180° alrededor de $(1, -1)$.



Rote 90° alrededor de $(4, 2)$.
 Rote 90° alrededor de $(1, 4)$.
 Rote 90° alrededor de $(-4, 3)$.



Rote 180° alrededor de $(0, -3)$.
 Rote -90° alrededor de $(-3, 2)$.
 Rote 180° alrededor de $(-3, 4)$.



Rote 180° alrededor de $(-1, 3)$.
 Rote 180° alrededor de $(1, -4)$.
 Rote 180° alrededor de $(1, -1)$.

