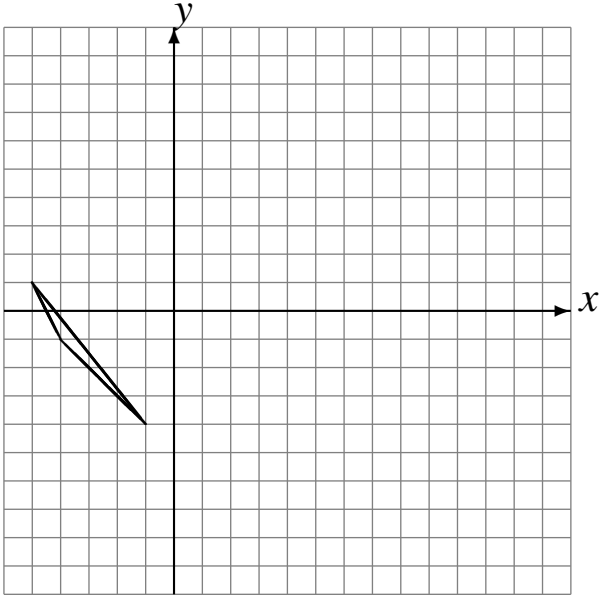


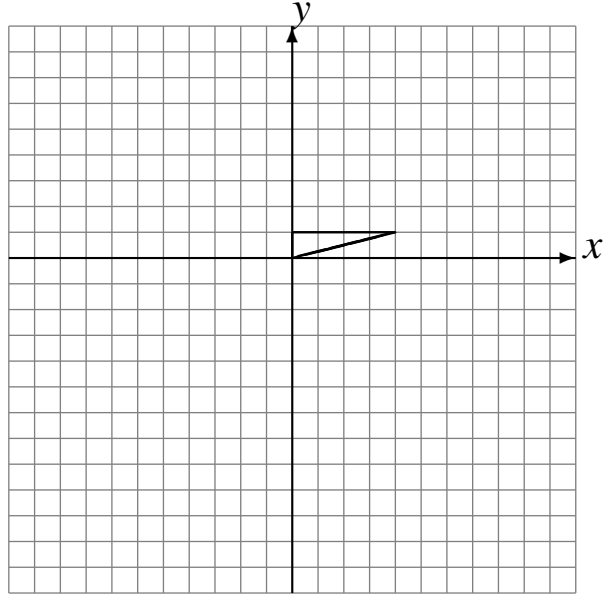
Rotaciones (C)

Dibuje cada figura rotada.

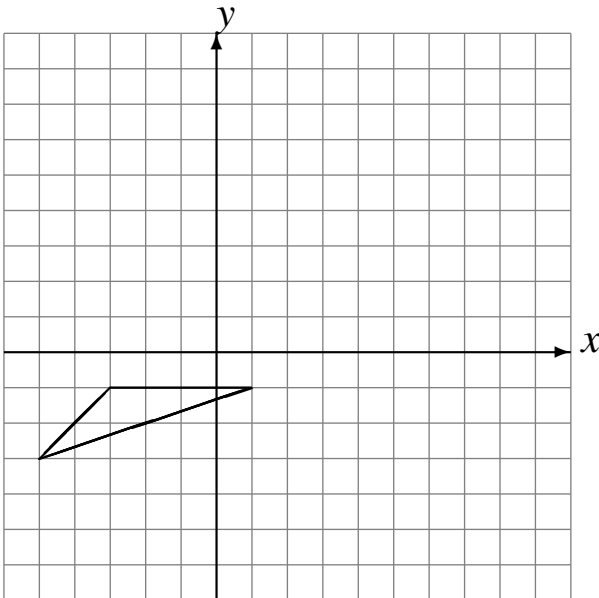
Rote 90° alrededor de $(4, 2)$.
Rote 90° alrededor de $(1, -2)$.
Rote -90° alrededor de $(3, -3)$.



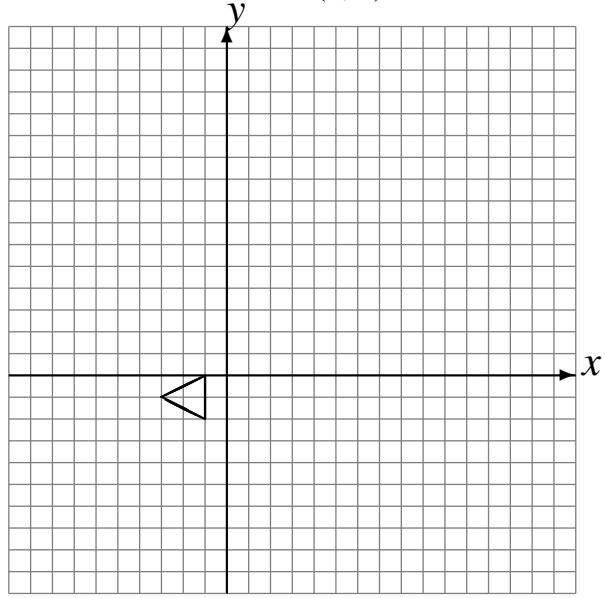
Rote 180° alrededor de $(1, 2)$.
Rote 90° alrededor de $(-3, 3)$.
Rote 180° alrededor de $(-3, -2)$.



Rote -90° alrededor de $(-1, -3)$.
Rote 90° alrededor de $(-4, 1)$.
Rote -90° alrededor de $(2, -1)$.



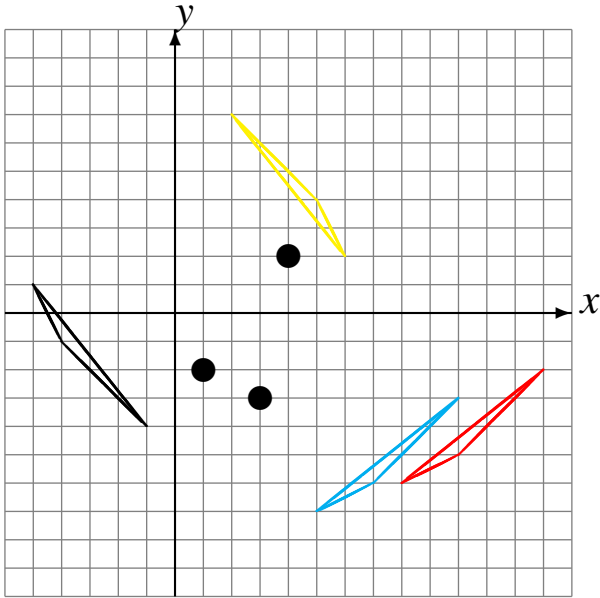
Rote 180° alrededor de $(3, -4)$.
Rote 90° alrededor de $(-3, 3)$.
Rote 180° alrededor de $(2, 3)$.



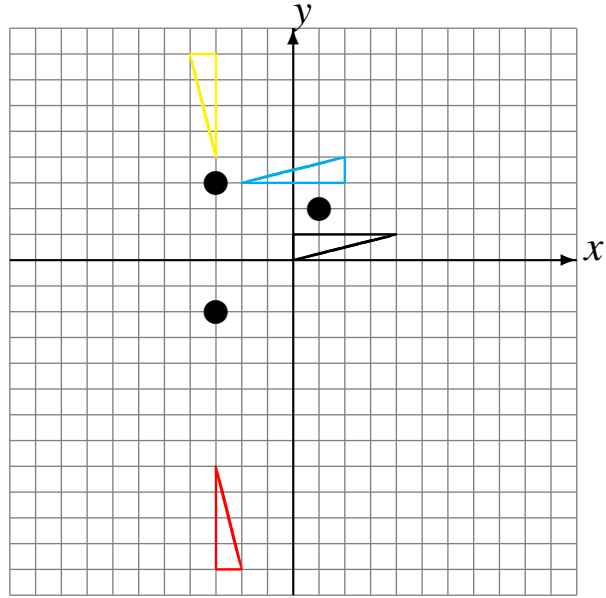
Rotaciones (C) Respuestas

Dibuje cada figura rotada.

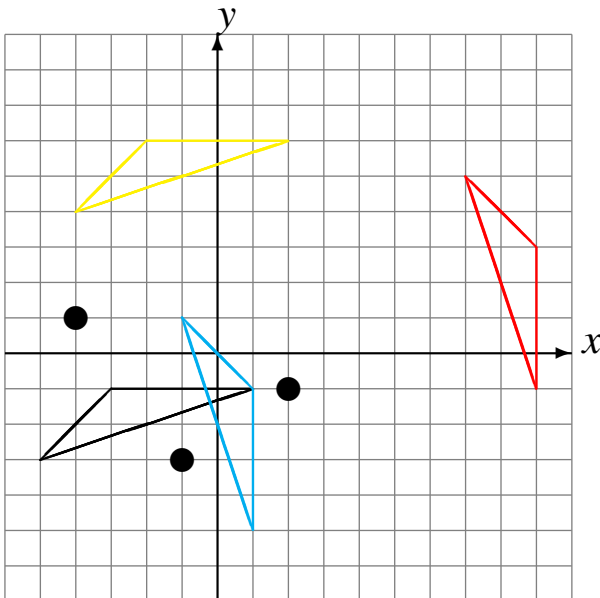
Rote 90° alrededor de (4, 2).
 Rote 90° alrededor de (1, -2).
 Rote -90° alrededor de (3, -3).



Rote 180° alrededor de (1, 2).
 Rote 90° alrededor de (-3, 3).
 Rote 180° alrededor de (-3, -2).



Rote -90° alrededor de (-1, -3).
 Rote 90° alrededor de (-4, 1).
 Rote -90° alrededor de (2, -1).



Rote 180° alrededor de (3, -4).
 Rote 90° alrededor de (-3, 3).
 Rote 180° alrededor de (2, 3).

