

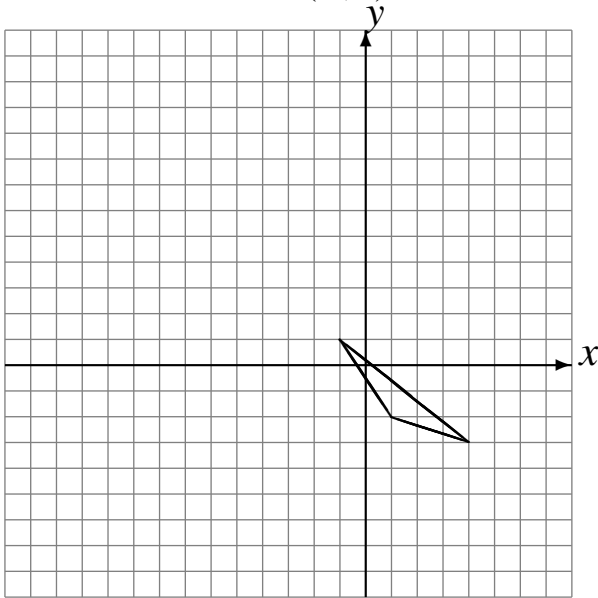
Rotaciones (A)

Dibuje cada figura rotada.

Rote 90° alrededor de $(3, -4)$.

Rote -90° alrededor de $(-2, 0)$.

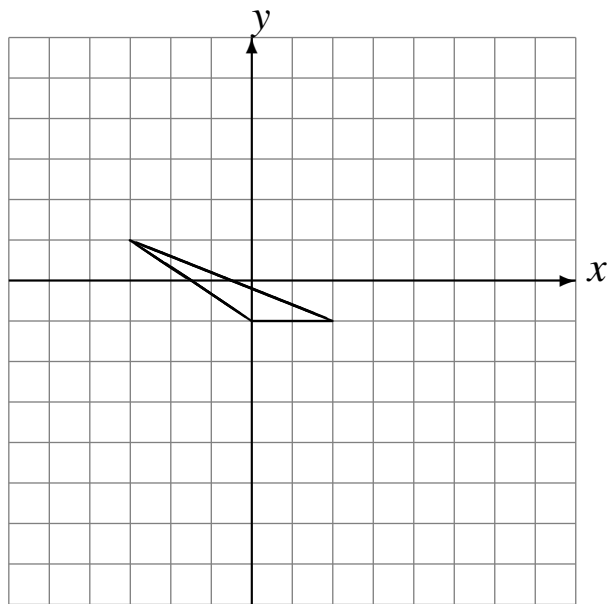
Rote -90° alrededor de $(-1, 3)$.



Rote 180° alrededor de $(0, -1)$.

Rote -90° alrededor de $(1, 2)$.

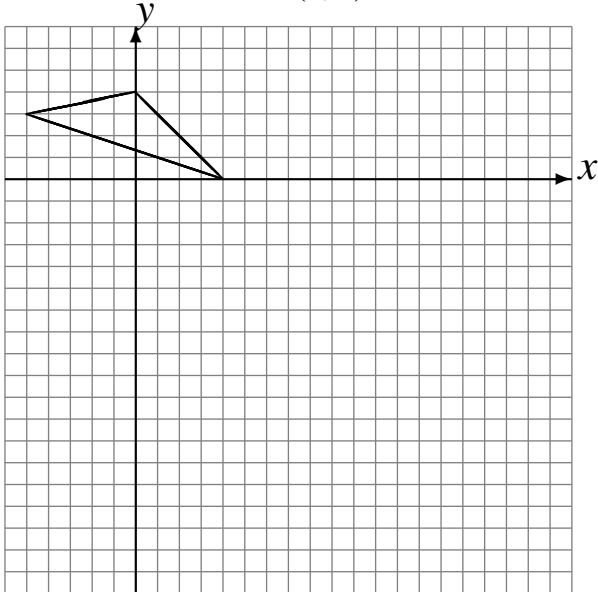
Rote 180° alrededor de $(1, -1)$.



Rote -90° alrededor de $(2, -3)$.

Rote -90° alrededor de $(-4, -4)$.

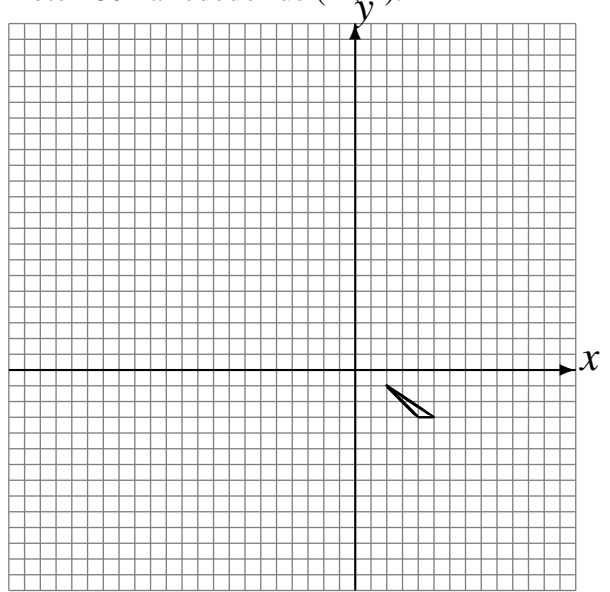
Rote 90° alrededor de $(1, 1)$.



Rote 180° alrededor de $(-4, -1)$.

Rote 90° alrededor de $(-1, -1)$.

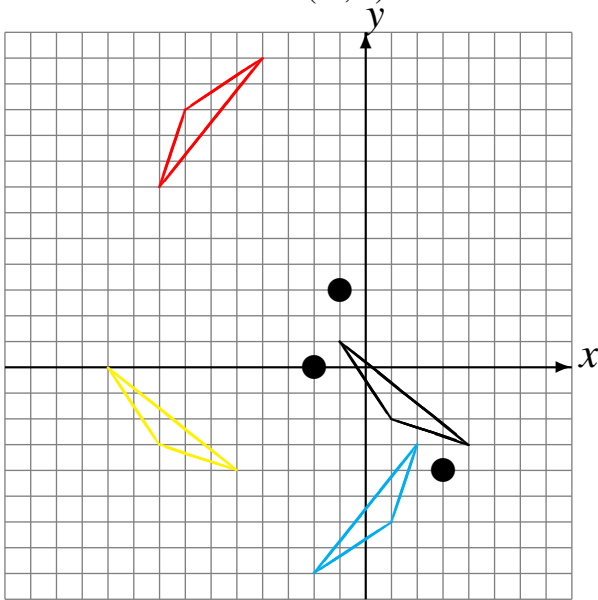
Rote 180° alrededor de $(-4, 4)$.



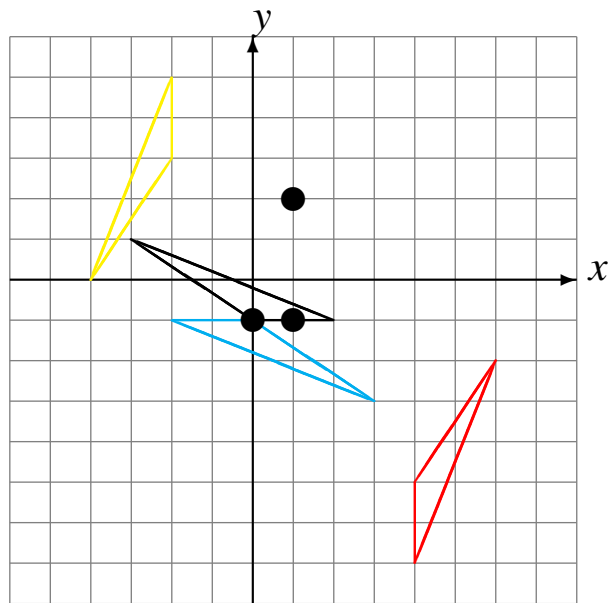
Rotaciones (A) Respuestas

Dibuje cada figura rotada.

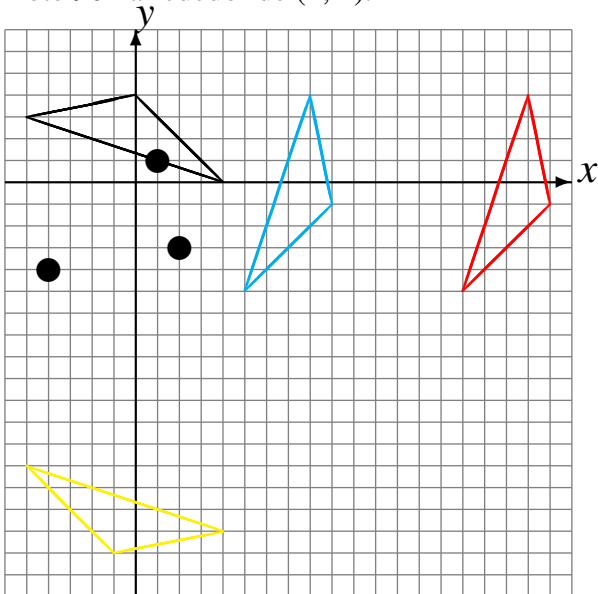
Rote 90° alrededor de $(3, -4)$.
 Rote -90° alrededor de $(-2, 0)$.
 Rote -90° alrededor de $(-1, 3)$.



Rote 180° alrededor de $(0, -1)$.
 Rote -90° alrededor de $(1, 2)$.
 Rote 180° alrededor de $(1, -1)$.



Rote -90° alrededor de $(2, -3)$.
 Rote -90° alrededor de $(-4, -4)$.
 Rote 90° alrededor de $(1, 1)$.



Rote 180° alrededor de $(-4, -1)$.
 Rote 90° alrededor de $(-1, -1)$.
 Rote 180° alrededor de $(-4, 4)$.

