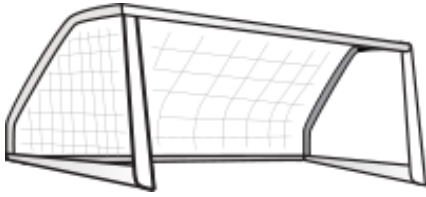
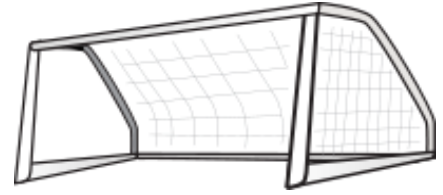


¿Qué portería? (B)

Elija la portería correcta para cada pregunta.



Portería 1



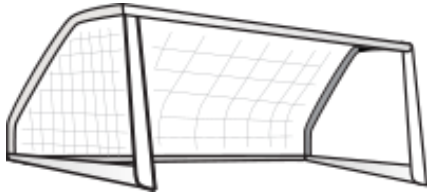
Portería 2

65	«	$16 + 49$	»	58
116	«	$84 + 37$	»	121
156	«	$58 + 98$	»	153
106	«	$66 + 31$	»	97
80	«	$11 + 62$	»	73
46	«	$27 + 19$	»	47
68	«	$22 + 46$	»	69
52	«	$29 + 22$	»	51
94	«	$82 + 12$	»	99
96	«	$76 + 14$	»	90

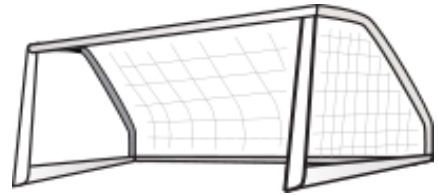
Goles Anotados: _____

¿Qué portería? (B) Respuestas

Elija la portería correcta para cada pregunta.



Portería 1



Portería 2

<input type="checkbox"/> 65	«	<input type="checkbox"/> 16 + 49	»	<input type="checkbox"/> 58
<input type="checkbox"/> 116	«	<input type="checkbox"/> 84 + 37	»	<input type="checkbox"/> 121
<input type="checkbox"/> 156	«	<input type="checkbox"/> 58 + 98	»	<input type="checkbox"/> 153
<input type="checkbox"/> 106	«	<input type="checkbox"/> 66 + 31	»	<input type="checkbox"/> 97
<input type="checkbox"/> 80	«	<input type="checkbox"/> 11 + 62	»	<input type="checkbox"/> 73
<input type="checkbox"/> 46	«	<input type="checkbox"/> 27 + 19	»	<input type="checkbox"/> 47
<input type="checkbox"/> 68	«	<input type="checkbox"/> 22 + 46	»	<input type="checkbox"/> 69
<input type="checkbox"/> 52	«	<input type="checkbox"/> 29 + 22	»	<input type="checkbox"/> 51
<input type="checkbox"/> 94	«	<input type="checkbox"/> 82 + 12	»	<input type="checkbox"/> 99
<input type="checkbox"/> 96	«	<input type="checkbox"/> 76 + 14	»	<input type="checkbox"/> 90

Goles Anotados: _____