

Contar Monedas Norteamericanas (A)

¿Cuánto vale cada conjunto de monedas?

1.




\$ _____

2.




\$ _____

3.




\$ _____

4.



\$ _____

5.



\$ _____

6.



\$ _____

Todas las imágenes fueron proporcionadas por la Casa de Moneda de Estados Unidos de América.

Contar Monedas Norteamericanas (A) Respuestas

¿Cuánto vale cada conjunto de monedas?

1.



\$0.76

2.



\$0.67

3.



\$0.43

4.



\$0.55

5.



\$0.61

6.



\$0.97

Todas las imágenes fueron proporcionadas por la Casa de Moneda de Estados Unidos de América.