

Contar Monedas Norteamericanas (G)

¿Cuánto vale cada conjunto de monedas?

1.




\$ _____

2.




\$ _____

3.




\$ _____

4.




\$ _____

5.



\$ _____

6.




\$ _____

Todas las imágenes fueron proporcionadas por la Casa de Moneda de Estados Unidos de América.

Contar Monedas Norteamericanas (G) Respuestas

¿Cuánto vale cada conjunto de monedas?

1.



\$0.66

2.



\$0.41

3.



\$0.62

4.



\$0.36

5.



\$0.21

6.



\$0.03

Todas las imágenes fueron proporcionadas por la Casa de Moneda de Estados Unidos de América.