

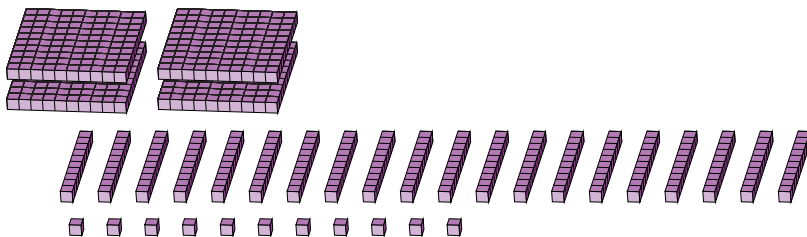
# Reagrupar Bloques Base Diez (A)

Nombre: \_\_\_\_\_

Fecha: \_\_\_\_\_

¿Qué número se muestra en cada grupo de bloques base diez?

1.




             
centenas    decenas    unidades

→ reagrupar

--	--	--

2.



             
centenas    decenas    unidades

→ reagrupar

--	--	--

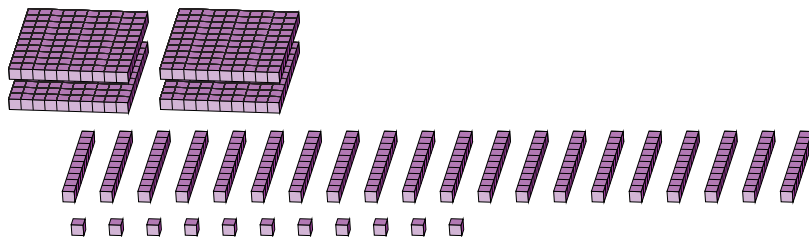
# Reagrupar Bloques Base Diez (A) Respuestas

Nombre: \_\_\_\_\_

Fecha: \_\_\_\_\_

¿Qué número se muestra en cada grupo de bloques base diez?

1.




4	20	11
centenas	decenas	unidades

→ reagrupar

6	1	1
---	---	---

2.



2	19	25
centenas	decenas	unidades

→ reagrupar

4	1	5
---	---	---