

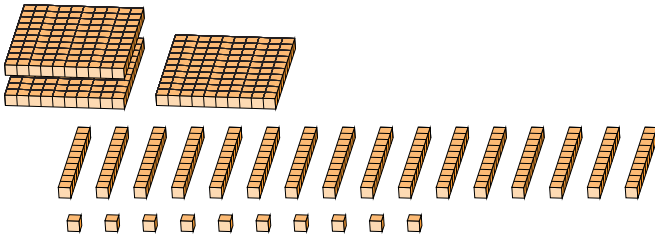
Reagrupar Bloques Base Diez (J)

Nombre: _____

Fecha: _____

¿Qué número se muestra en cada grupo de bloques base diez?

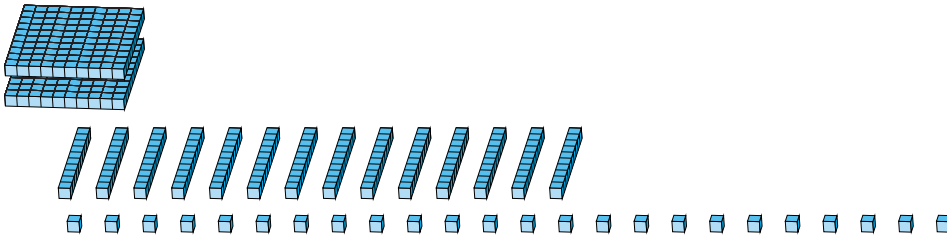
1.



Forma Expandida

Forma Estándar

2.



Forma Expandida

Forma Estándar

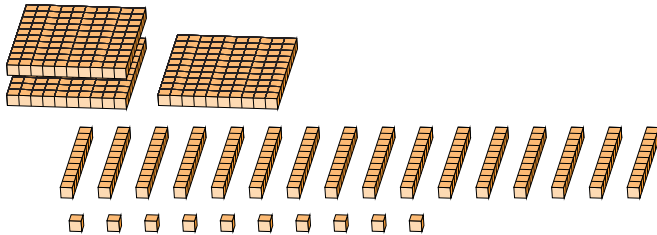
Reagrupar Bloques Base Diez (J) Respuestas

Nombre: _____

Fecha: _____

¿Qué número se muestra en cada grupo de bloques base diez?

1.



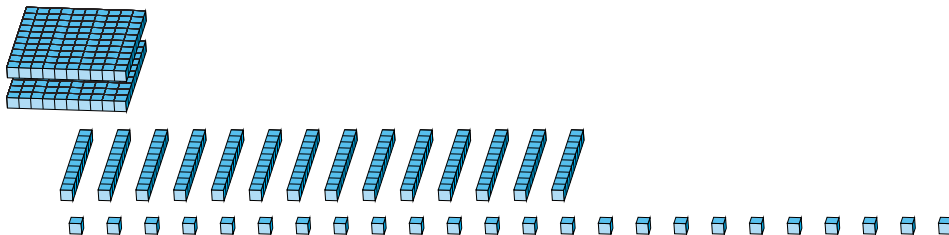
Forma Expandida

$$\begin{aligned}(3 \times 100) + (16 \times 10) + (10 \times 1) \\ (4 \times 100) + (7 \times 10) + (0 \times 1) \\ 400 + 70 + 0\end{aligned}$$

Forma Estándar

470

2.



Forma Expandida

$$\begin{aligned}(2 \times 100) + (14 \times 10) + (24 \times 1) \\ (3 \times 100) + (6 \times 10) + (4 \times 1) \\ 300 + 60 + 4\end{aligned}$$

Forma Estándar

364