

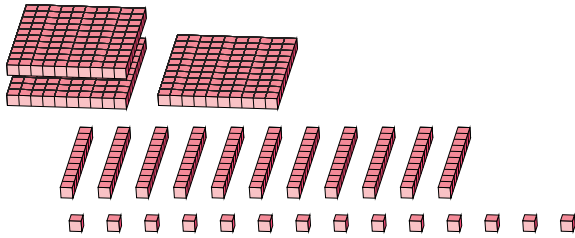
# Reagrupar Bloques Base Diez (G)

Nombre: \_\_\_\_\_

Fecha: \_\_\_\_\_

¿Qué número se muestra en cada grupo de bloques base diez?

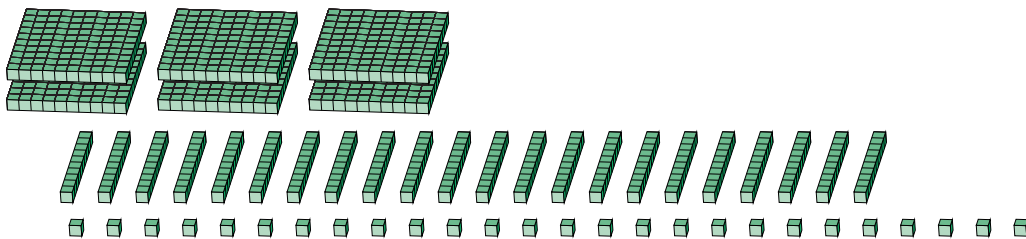
1.



Forma Expandida

Forma Estándar

2.



Forma Expandida

Forma Estándar

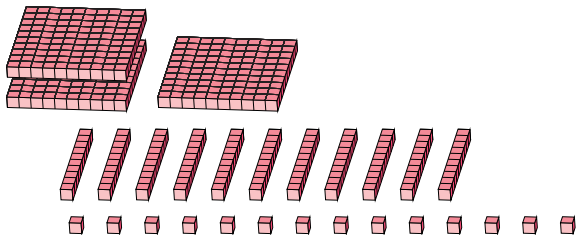
# Reagrupar Bloques Base Diez (G) Respuestas

Nombre: \_\_\_\_\_

Fecha: \_\_\_\_\_

¿Qué número se muestra en cada grupo de bloques base diez?

1.



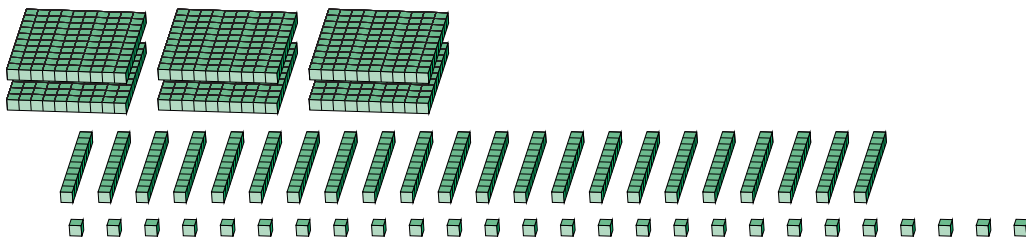
Forma Expandida

$$\begin{aligned}(3 \times 100) + (11 \times 10) + (14 \times 1) \\ (4 \times 100) + (2 \times 10) + (4 \times 1) \\ 400 + 20 + 4\end{aligned}$$

Forma Estándar

424

2.



Forma Expandida

$$\begin{aligned}(6 \times 100) + (22 \times 10) + (26 \times 1) \\ (8 \times 100) + (4 \times 10) + (6 \times 1) \\ 800 + 40 + 6\end{aligned}$$

Forma Estándar

846