

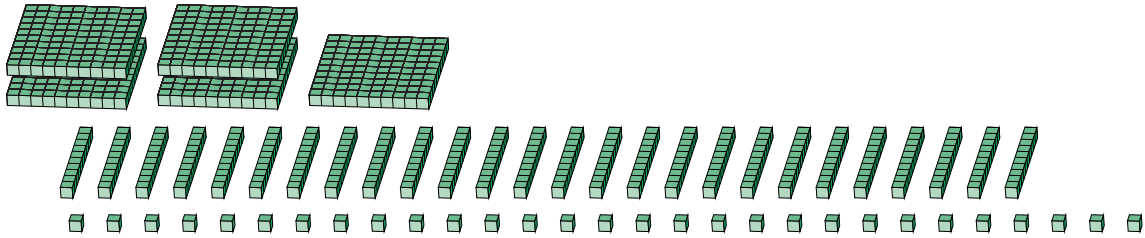
Reagrupar Bloques Base Diez (D)

Nombre: _____

Fecha: _____

¿Qué número se muestra en cada grupo de bloques base diez?

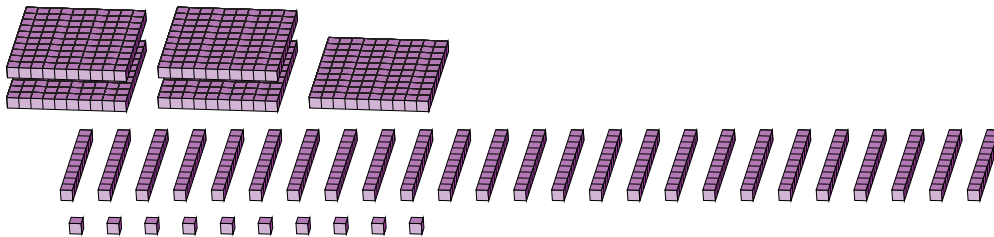
1.



Forma Expandida

Forma Estándar

2.



Forma Expandida

Forma Estándar

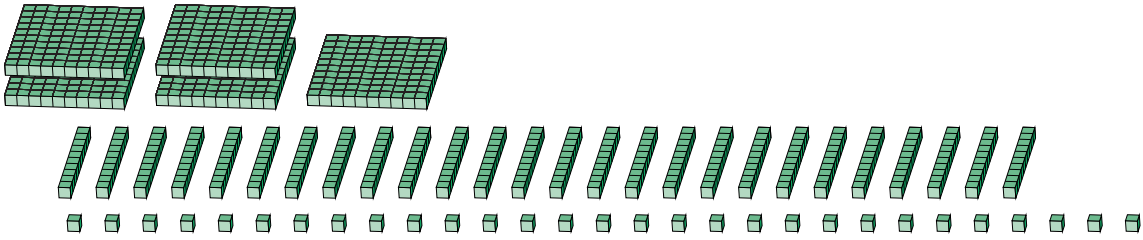
Reagrupar Bloques Base Diez (D) Respuestas

Nombre: _____

Fecha: _____

¿Qué número se muestra en cada grupo de bloques base diez?

1.



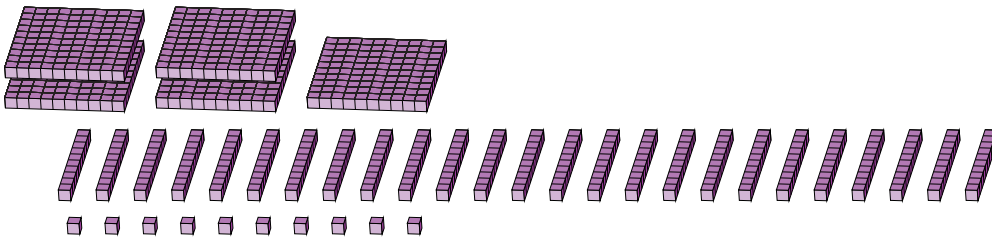
Forma Expandida

Forma Estándar

$$\begin{aligned} &(5 \times 100) + (26 \times 10) + (29 \times 1) \\ &(7 \times 100) + (8 \times 10) + (9 \times 1) \\ &700 + 80 + 9 \end{aligned}$$

789

2.



Forma Expandida

Forma Estándar

$$\begin{aligned} &(5 \times 100) + (25 \times 10) + (10 \times 1) \\ &(7 \times 100) + (6 \times 10) + (0 \times 1) \\ &700 + 60 + 0 \end{aligned}$$

760