

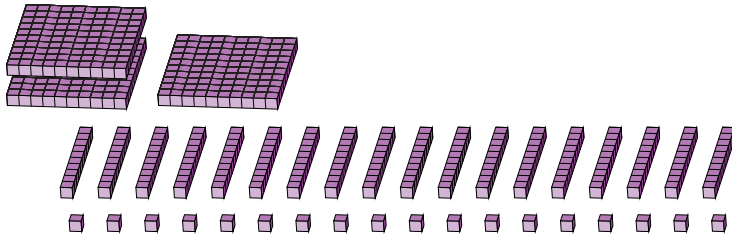
Reagrupar Bloques Base Diez (A)

Nombre: _____

Fecha: _____

¿Qué número se muestra en cada grupo de bloques base diez?

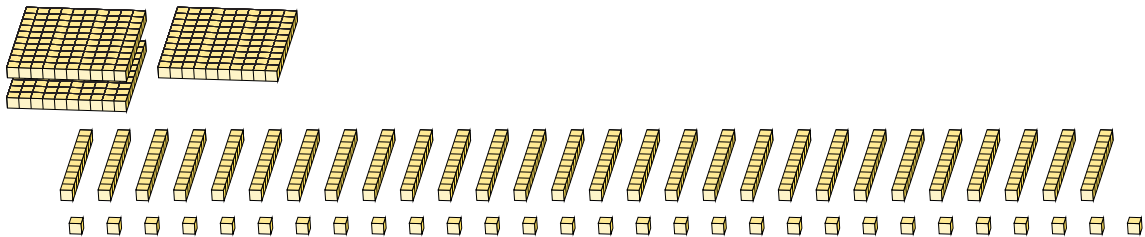
1.



Forma Expandida

Forma Estándar

2.



Forma Expandida

Forma Estándar

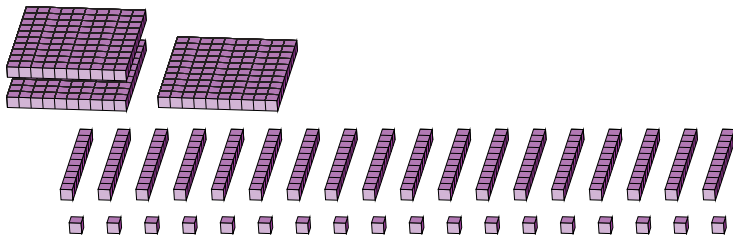
Reagrupar Bloques Base Diez (A) Respuestas

Nombre: _____

Fecha: _____

¿Qué número se muestra en cada grupo de bloques base diez?

1.




Forma Expandida

$$\begin{aligned}(3 \times 100) + (18 \times 10) + (18 \times 1) \\ (4 \times 100) + (9 \times 10) + (8 \times 1) \\ 400 + 90 + 8\end{aligned}$$

Forma Estándar

498

2.



Forma Expandida

$$\begin{aligned}(1 \times 100) + (28 \times 10) + (29 \times 1) \\ (4 \times 100) + (0 \times 10) + (9 \times 1) \\ 400 + 0 + 9\end{aligned}$$

Forma Estándar

409