

Representar Números (H)

¿Qué número se muestra en cada grupo de bloques base diez?



100



10



1

Representar Números (H) Respuestas

¿Qué número se muestra en cada grupo de bloques base diez?




100



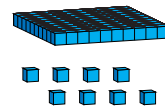
10



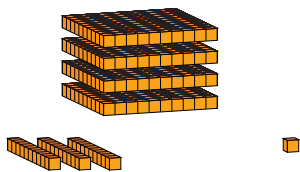
1



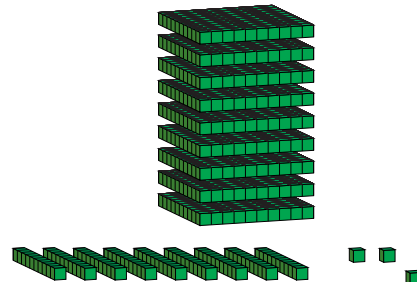
212



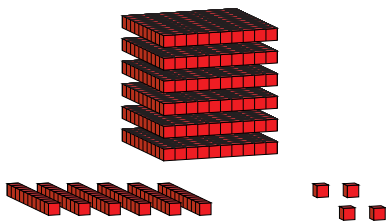
108



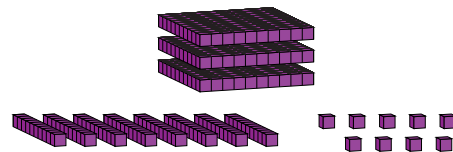
431



993



664



389