

Representar Números (D)

¿Qué número se muestra en cada grupo de bloques base diez?



100



10



1

Representar Números (D) Respuestas

¿Qué número se muestra en cada grupo de bloques base diez?



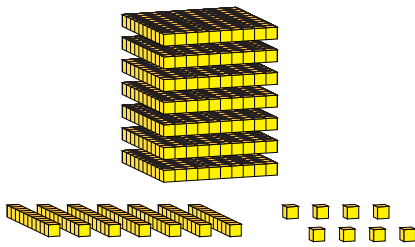
100



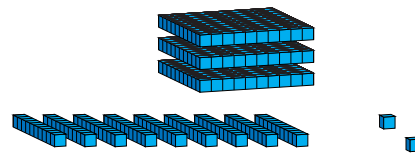
10



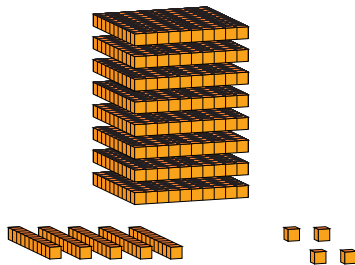
1



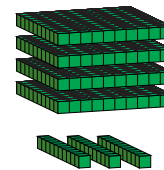
778



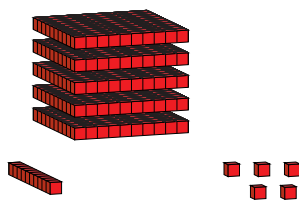
392



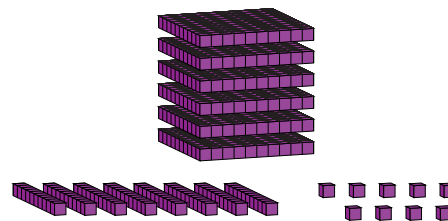
854



430



515



689