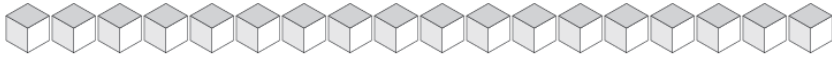
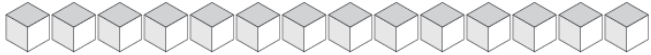


Cambiar Unidades por Varas (A)

¿Cuántas unidades puedes cambiar por varas y cuántas quedarían?



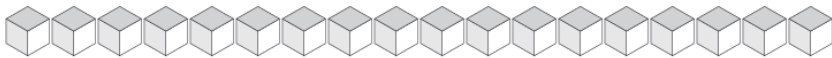
Varas	Unidades



Varas	Unidades



Varas	Unidades



Varas	Unidades



Varas	Unidades

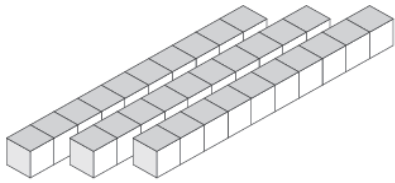


Varas	Unidades

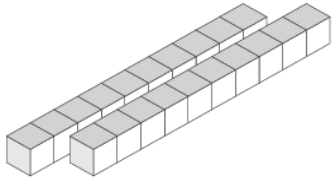


Cambiar Unidades por Varas (A) Respuestas

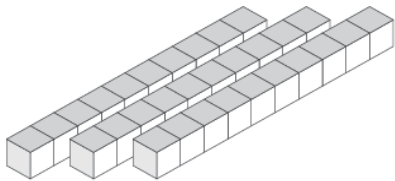
¿Cuántas unidades puedes cambiar por varas y cuántas quedarían?



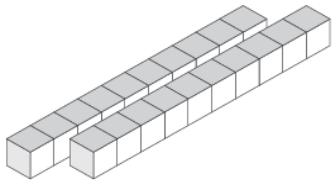
Varas	Unidades
3	3



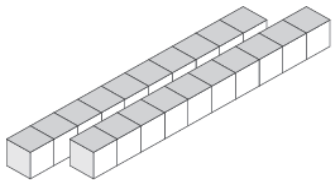
Varas	Unidades
2	9



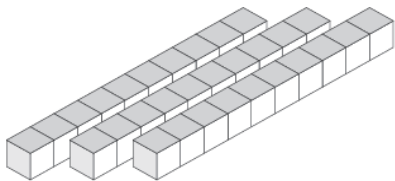
Varas	Unidades
3	5



Varas	Unidades
2	2



Varas	Unidades
2	3



Varas	Unidades
3	8